

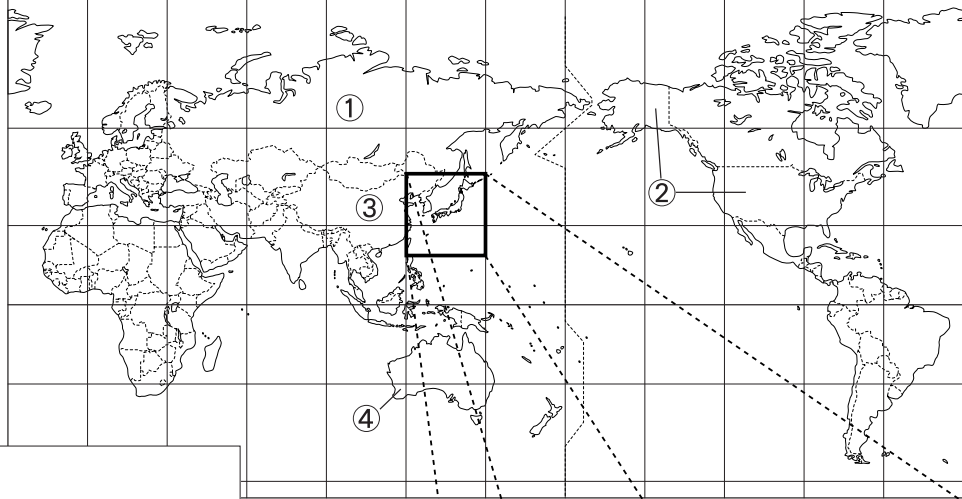


1 日本のすがた

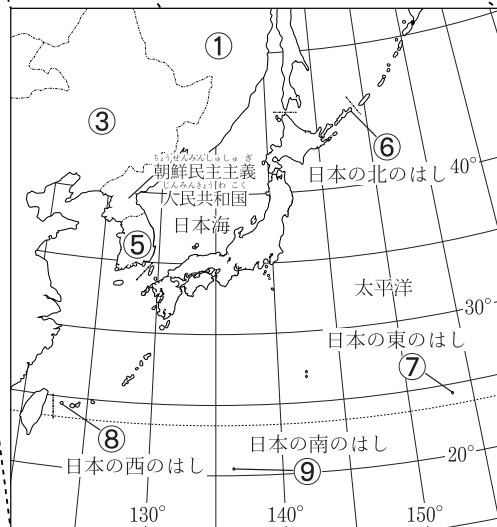
学習日 / 年 月 日

★世界から見た日本の位置★

下の地図の①～⑤は国の名前を、⑥～⑨は島の名前を書きなさい。



①	
②	
③	
④	
⑤	
⑥	
⑦	
⑧	
⑨	



★ 練習しよう ★



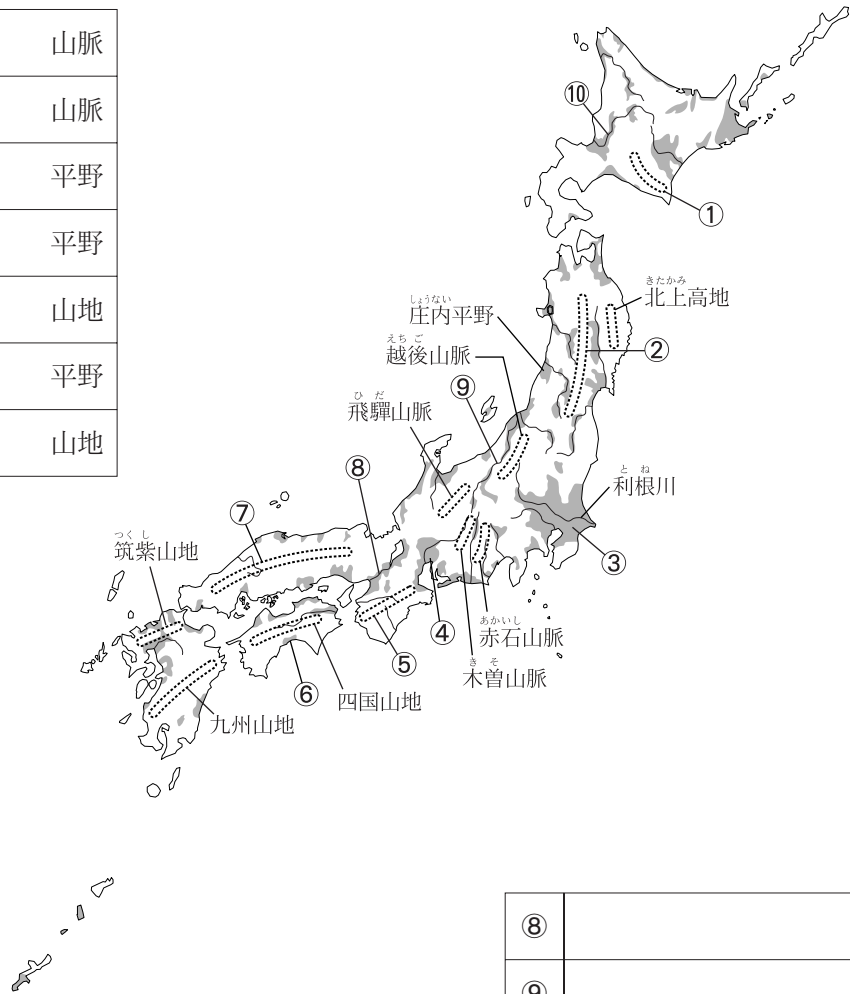
- 北極と南極を結ぶ線を何といいますか。
- 緯度0度の線を何といいますか。
- 日本の時刻は、何度の経線を基準に決められていますか。
- (3)の経線は日本のどの都市を通過していますか。
- 日本の国土面積は約何 km²ですか。
- 日本がロシア連邦に返還を求めている、日本最北端の択捉島をふくむ島々を何といいますか。

(1)	
(2)	
(3)	
(4)	
(5)	約
(6)	

★ 日本の地形 ★

下の地図の①～⑩の地形の名称を書きなさい。

①		山脈
②		山脈
③		平野
④		平野
⑤		山地
⑥		平野
⑦		山地



⑧		川
⑨		川
⑩		川



★ 練習しよう ★



- (1) 日本最大の平野を書きなさい。
- (2) 日本最大の湖を書きなさい。
- (3) 日本の中央部につらなる「日本アルプス」とは、飛驒山脈・木曾山脈とあと1つは、何山脈ですか。
- (4) 日本の川の特徴を書きなさい。
- (5) まわりを山に囲まれている平地を何といいますか。
- (6) 新潟県と群馬県の県境となっている山脈を書きなさい。

(1)	
(2)	
(3)	
(4)
(5)	
(6)	